














место для шифра

**Всероссийская олимпиада школьников по ОБЗР, 2025 – 2026 учебный год**

**Школьный этап. 10 класс**

Выберите только один ответ. Выбранный вариант ответа обведите кружком. За правильный ответ начисляется **2 балла**. Исправления не допускаются!

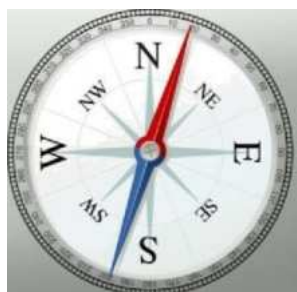
№ п/п	Вопросы и варианты ответов	Количество баллов
1	<b>Виды закаливающих процедур:</b> а) Моржевание, обливание, купание б) Хождение босиком, посещение солярия и бани в) Водные процедуры, солнечные и воздушные ванны	
2	<b>Возбудителем сифилиса является</b> а) хламидия б) бледная трепонема б) гонококк г) ВИЧ инфекция	
3	<b>Как называется данная повязка на грудную клетку</b> а) Колосовидная повязка в) Повязка Вельпо б) Повязка Дезо г) Косыночная повязка	
4	<b>Выберите Международный символ гражданской обороны:</b> а  б  в  г 	
5	<b>Семейный кодекс РФ вступил в силу:</b> а) 01.03.1995 б) 01.04.1995 в) 01.03.1996	
6	<b>В соответствии с Кодексом о браке и семье заключение брака происходит после подачи заявления в орган загса по истечении:</b> а) 1 месяца б) 2 недель в) 2 месяцев	
7	<b>На каком рисунке изображен противогаз ГП-5?</b> а  б  в  г 	
8	<b>Последствиями аварий на химически опасных предприятиях могут быть:</b> а) резкое повышение или понижение атмосферного давления в зоне аварии; б) разрушение наземных и подземных коммуникаций, промышленных зданий в результате действий ударной волны в) заражение окружающей среды и массовое поражения людей, растений и животных опасными ядовитыми веществами.	
9	<b>Ядерное оружие – это:</b> а) ОМП взрывного действия, основанное на использовании внутриядерной энергии;	

	б) ОМП взрывного действия, основанное на использовании светового излучения за счет возникающего при взрыве большого потока лучистой энергии, включающей ультрафиолетовые видимые и инфракрасные лучи; в) высокоточное наступательное оружие, основанное на использовании ионизирующего излучения при взрыве ядерного заряда.	
10	<b>РСЧС создана в целях:</b> а) Прогнозирования ЧС на территории РФ и организации проведения аварийно-спасательных и других неотложных работ; б) объединения усилий органов власти, организаций и предприятий их сил и средств в области предупреждения и ликвидации ЧС; в) обеспечения первоочередного жизнеобеспечения населения пострадавшего в чрезвычайных ситуациях на территории Российской Федерации.	
11	<b>Из предложенных вариантов выберите знак биологической Опасности</b> <div style="display: flex; justify-content: space-around; align-items: center;"> <div style="text-align: center;">           а   </div> <div style="text-align: center;">           б   </div> <div style="text-align: center;">           в   </div> <div style="text-align: center;">           г   </div> </div>	
12	<b>Ежегодно повторяющееся в один и тот же сезон затопление поймы реки это:</b> а) половодье      б) паводок      в) наводнение      г) затор	
13	<b>Назовите документ, определяющий права и обязанности граждан России в области защиты от ЧС:</b> а) федеральный закон «О защите населения и территорий от чрезвычайных ситуаций природного и техногенного характера»; б) Концепция национальной безопасности РФ; в) федеральный закон «О пожарной безопасности»	
14	<b>Разъясните, что означает аббревиатура РСЧС.</b> а) Единая государственная система предупреждения и ликвидации ЧС б) Российская система предупреждения и действий в ЧС в) Российская система ликвидации ЧС г) Единая государственная система смягчения рисков последствий ЧС	
15	<b>Как правильно снять с пострадавшего рубашку при ранении левой руки?</b> а) снять одежду с правой руки, а затем с левой; б) снять одежду с левой руки, а затем с правой; в) в данной ситуации последовательность действий не имеет значения.	
16	<b>По каким признакам судят о наличии внутреннего кровотечения?</b> а) появление на поверхности тела гематом или других видимых повреждений; б) покраснение кожи на лице, конечности становятся горячим на ощупь, частый и слабый пульс, сонливость или напротив нарастающее беспокойство; в) бледные кожные покровы, похолодание конечностей, частый и слабый пульс, сонливость или напротив нарастающее беспокойство.	
17	<b>Отсутствие сознания, сердцебиения, дыхания, роговичного и зрачкового рефлексов являются признаками:</b> а) обморока      б) комы      в) коллапса      г) клинической смерти	
18	<b>Система мер, направленная на уничтожение микроорганизмов, находящихся в ране либо в организме в целом:</b> а) антисептика      б) асептика      в) промывание      г) десмургия	

19	<b>Как называется процесс возникновения и распространения инфекционных заболеваний среди людей?</b> а) эпидемический    б) инфекционный    в) очаговый    г) инкубационный	
20	<b>Пик клещевого сезона приходится на:</b> а) на конец весны, начало лета б) начало зимы, конец осени в) начало весны г) конец лета	
<b>Общее количество баллов за тур</b>		

### Теоретический тур в вопросах

**Задание 1. Рассмотрите рисунок и заполните таблицу.**



Символ на компасе	Значение символа	Азимут
N		
S		
E		
W		
NW		

Оценочные баллы: **максимальный** – 10 баллов, **фактический** \_\_\_\_\_

**Задание № 2** Что означают данные знаки безопасности? Ответ запишите в таблицу.



1

2

3

4

5

№	ОТВЕТ
1	
2	
3	
4	
5	

Оценочные баллы: **максимальный** – 10 баллов, **фактический** \_\_\_\_\_

## Практический тур

### Практический тур.

1. Назовите тип огнетушителя и область его применения



---

---

---



---

---

---

Запишите порядок использования верхнего огнетушителя

---


---

---

---

Оценочные баллы: **максимальный** – 30 баллов; **фактический** - \_\_\_\_ баллов

2. Определите стороны горизонта по годовым кольцам на срезе дерева. Подпишите их на рисунке и поясните, как вы определили



---

---

---

---

---

---

Оценочные баллы: **максимальный** – 10 баллов; **фактический** - \_\_\_\_ баллов